





**Вариант 1 (первый уровень сложности)**

Инструкция: нужно подставить вместо шахматных фигур цифры и решить примеры

			
7	3	1	2






$$\text{King} - \text{Rook} = \square$$

$$\text{Rook} + \text{Pawn} = \square$$

$$\text{King} + \text{Knight} = \square$$

## Вариант 2 (второй уровень сложности)

Инструкция: нужно подставить вместо шахматных фигур цифры и решить примеры

				
7	6	4	3	1






$$\text{Pawn} + \text{Rook} = \square$$

$$\text{Bishop} - \text{Pawn} = \square$$

$$\text{Pawn} + \text{Knight} + \text{King} = \square$$

### Вариант 3 (третий уровень сложности)

Инструкция: нужно подставить вместо шахматных фигур цифры и решить примеры, а также поставить знаки сравнения: >, < или =

				
7	6	4	2	1

$$\text{Bishop} + \text{King} + \text{Knight} = \square$$

$$\text{Rook} + \text{King} \square \text{ Pawn}$$

$$\text{Pawn} - \text{Knight} \square \text{ Rook}$$

